


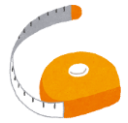










# 放送ライブラリー クイズシート

放送ライブラリー9階の展示をよーく見て、答えを探そう。  
どうしても分からない時は、フロアスタッフに聞いてみよう。  
ヒントを教えてくれる……かも??



番号	問題	ヒントのあるコーナー
問1	1964年に開かれた東京オリンピック。開会式の視聴率はすばり何%?	放送お茶の間物語
問2	1926年、日本で最初にテレビ画面に映し出された画像は何?	放送クロニクルウォール
問3	テレビ放送が始まった1953年ごろ、駅などの人が多く集まる場所に置かれていたテレビを「なにテレビ」と呼んだ?	放送クロニクルウォール
問4	ニュースなどの番組づくりには、さまざまな役わりの人がかかわっています。そのうち、ディレクターの仕事は次のうちどれ? A) 取材するニュースを決め、記者に取材を指示したり、集まったニュースを放送する順番を決める B) キャスターが読む原稿や映像を準備し、フロアディレクターや中継現場に指示を出して番組を進める C) 番組の最高責任者で、番組の企画を立てたり、予算の管理や出演者の調整をする	放送のしくみ 
問5	1953年にテレビ放送が始まったころのテレビ1台の値段は、大卒初任給(大学を卒業し就職した人が、はじめてもらう給料)の何か月分だった? 	放送お茶の間物語
問6	青や緑一色の背景に別の映像を合わせる技術を何という? A) アオマキー B) アカマキー C) クロマキー	ウェルカムTV 
問7	1964年の東京オリンピック開会式で、日本人選手団が着ていた上着の色は?	放送お茶の間物語
問8	放送用テープのはばや、テレビ画面の大きさは、センチ(cm)ではなくアメリカで使われている「インチ」という単位で表される。では、この1インチはおよそ何センチ?	テープからディスクへ 

問1	放送のお仕事①  アナウンサー	問2	放送のお仕事②  声優
放送のお仕事③  気象予報士	問3	問4	放送のお仕事④  音声&カメラマン
問5	放送のお仕事⑤  照明	放送のお仕事⑥  記者	問6
放送のお仕事⑦  ラジオDJ	問7	放送のお仕事⑧  リポーター	問8

memo

学校名:

年 組

班/名前: